


Name: _____

Der geschlossene Stromkreis




Zeichne die Leitungsdrähte ein.
Male die stromleitenden Teile rot an.
Beschreibe den Weg des elektrischen Stroms.

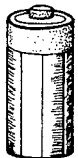


Schaltskizze des Stromkreises

Zeichne die Drähte so ein, dass das Lämpchen leuchtet.
Zeichne die **Schaltskizze** neben die Abbildung! Schau im Buch auf Seite 120 nach.




Wie bringst du die Glühlampe mit der Stabbatterie zum Leuchten?
Betrachte die Stabbatterie genau.
Wo sind die Pole?
Verbinde Lämpchen mit dieser Batterie.
Male die Leitungsdrähte ein.



Licht oder nicht? (1)

Probiere aus. Male richtig angeschlossene Glühlampen gelb an, falsch angeschlossene Glühlampen schwarz.



Licht oder nicht? (2)

Probiere aus. Male richtig angeschlossene Glühlampen gelb an, falsch angeschlossene Glühlampen schwarz.

